

ВАРИАНТ 3

<p>1. Коя от изброените характеристики НЕ определя местоположението в пространството на географските обекти?</p> <p>А) географска ширина Б) надморска височина В) географска дължина Г) площно покритие</p>	<p>10. Коя двойка „процес – форми на релефа“ е грешна?</p> <p>А) ерозия – меандър, ровина Б) абразия – клиф, прибойна ниша В) екзарация – бархани, сталактони Г) карстов процес – понори, сталактити</p>
<p>2. Разликата между височините на две точки на земната повърхност се нарича:</p> <p>А) максимална височина Б) средна височина В) абсолютна височина Г) относителна височина</p>	<p>11. Коя скала е с вулканичен произход?</p> <p>А) базалт Б) гранит В) гнайс Г) доломит</p>
<p>3. Кой древен учен пръв измерва дължината на земния екватор?</p> <p>А) Ератостен Б) Клавдий Птолемей В) Страбон Г) Плиний Стари</p>	<p>12. Кой вид почви се образуват върху седиментната скала лъос и е характерен с голямото си плодородие?</p> <p>А) смолница Б) чернозем В) латерит Г) антрацит</p>
<p>4. Кой от термините е вид природен комплекс?</p> <p>А) компонент Б) ландшафт В) хоризонт Г) профил</p>	<p>13. Кои почви са характерни за екваториалните и тропични райони с влажен климат?</p> <p>А) черноземни Б) алувиални В) латеритни Г) канелени</p>
<p>5. Кое от изброените НЕ е природна зона?</p> <p>А) тайга Б) степ В) пустиня Г) оазис</p>	<p>14. Как се нарича процесът на разлагане на органичните вещества в природата?</p> <p>А) минерализация Б) хумификация В) фотосинтеза Г) излужване</p>
<p>6. Как се нарича природна ситуация, при която планинско било възпрепятства разпространението на влажни въздушни маси към дадена територия и е причина за по-малкото количество валежите в нея?</p> <p>А) дъждовен капан Б) валежна сянка В) вятърна дупка Г) атмосферен тунел</p>	<p>15. В коя двойка „континент – местен вид растение“ има допусната грешка?</p> <p>А) Азия – бамбук Б) Африка – кактус В) Австралия – евкалипт Г) Северна Америка – секвоя</p>
<p>7. В коя част от атмосферата се намира озоновият слой?</p> <p>А) тропосфера Б) йоносфера В) стратосфера Г) екзосфера</p>	<p>16. Кой от изброените проблеми НЕ е екологичен?</p> <p>А) замърсяване на водите Б) изчезване на биологични видове В) изсичане на горите на сушата Г) изчерпване на нефтените находища</p>
<p>8. Кой тип подземни води е свързан с разпространението на карбонатни (варовици, мрамори, доломити) скални комплекси?</p> <p>А) карстови Б) грунтови В) термоминерални Г) артезиански</p>	<p>17. Кое е най-голямото по площ езеро на Земята (ок. 370 000 km²)?</p> <p>А) Байкал Б) Виктория В) Аралско море Г) Каспийско море</p>
<p>9. Как се нарича дълбоко речно устие с фуниеобразна форма?</p> <p>А) делта Б) естуар В) бифуркация Г) лагуна</p>	<p>18. Кой от полуостровите НЕ се намира в Северна Америка?</p> <p>А) Лабрадор Б) Калифорния В) Юкатан Г) Ютланд</p>

<p>19. За кой остров са характерни дървото на пътешественика, баобабите и лемуриите?</p> <p>А) Шри Ланка Б) Мадагаскар В) Борнео Г) Тасмания</p>	<p>29. В Исландия и Нова Зеландия има значителен брой:</p> <p>А) АЕЦ Б) ТЕЦ В) слънчеви електроцентрали Г) геотермални електроцентрали</p>
<p>20. Според политическото устройство Германия е:</p> <p>А) федеративна държава Б) унитарна държава В) парламентарна република Г) президентска република</p>	<p>30. Производството на алуминий се отнася към:</p> <p>А) черната металургия Б) цветната металургия В) самолетостроенето Г) автомобилостроенето</p>
<p>21. Как се наричат държавите без морски (океански) излаз?</p> <p>А) континентални Б) вътрешноконтинентални В) крайречни Г) крайбрежни</p>	<p>31. В коя държава възникват първите предприятия на машиностроенето?</p> <p>А) Великобритания Б) Франция В) Германия Г) САЩ</p>
<p>22. Моментното състояние на демографските показатели се нарича:</p> <p>А) демографска ситуация Б) демографски взрив В) демографска криза Г) демографски проблем</p>	<p>32. Кой вид транспорт е най-подходящ за превоз на тежки товари на дълги разстояния?</p> <p>А) Морски Б) Въздушен В) Автомобилен Г) Речен</p>
<p>23. Коя е най-разпространената религия в Индонезия?</p> <p>А) Християнство Б) Ислям В) Индуизъм Г) Будизъм</p>	<p>33. Към 01.01.2020 г. общият брой на страните членки на ЕС е:</p> <p>А) 22 Б) 24 В) 26 Г) 28</p>
<p>24. В кой ред е допусната грешка „държава – столица“?</p> <p>А) Норвегия – Осло Б) Бразилия – Рио де Жанейро В) Ливан – Бейрут Г) Мароко – Рабат</p>	<p>34. Площта на Русия възлиза приблизително на:</p> <p>А) 10 млн. km² Б) 11 млн. km² В) 16 млн. km² Г) 17 млн. km²</p>
<p>25. Към кой стопански сектор се отнася мебелната промишленост?</p> <p>А) Първичен Б) Вторичен В) Третичен Г) Четвъртичен</p>	<p>35. Япония е съставена от четири основни острова. На кой от тях е разположена столицата?</p> <p>А) Хокайдо Б) Хоншу В) Шикоку Г) Кюшу</p>
<p>26. Какъв вид структура НЕ е характерна за стопанството?</p> <p>А) Секторна Б) Отраслова В) Териториална Г) Селищна</p>	<p>36. На кое място сред страните в света са САЩ според броя на населението?</p> <p>А) Второ Б) Трето В) Четвърто Г) Пето</p>
<p>27. Коя държава е на първо място в света по производство на какао?</p> <p>А) Кот д'Ивоар Б) Куба В) Виетнам Г) Турция</p>	<p>37. Територията на коя африканска държава НЕ попада в обхвата на Атласките планини?</p> <p>А) Мароко Б) Алжир В) Тунис Г) Либия</p>
<p>28. Страната, която разполага с най-големите запаси на медни руди в света, се намира в:</p> <p>А) Южна Америка Б) Северна Америка В) Африка Г) Азия</p>	<p>38. Кой е водещият подотрасъл на животновъдството в Австралийския съюз?</p> <p>А) Бубарство Б) Свиневъдство В) Птицевъдство Г) Овцевъдство</p>

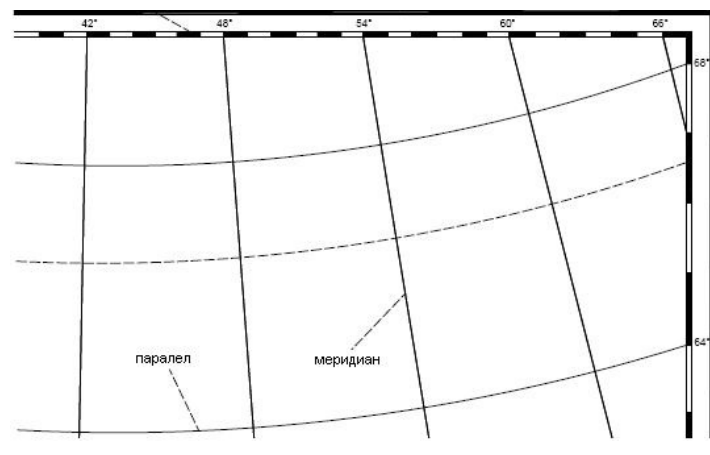
<p>39. Кои са координатите на най-южната точка на България? А) 42° 19' с.ш и 22° 21' и.д. Б) 44° 13' с. ш. и 22° 40' и.д. В) 41° 14' с. ш. и 25° 17' и.д. Г) 43° 32' с.ш. и 28° 36' и.д.</p>	<p>48. Кои реки имат преобладаващо карстово подхранване? А) Марица и Джерман Б) Панега и Девня В) Вьча и Стряма Г) Струма и Струмешница</p>
<p>40. През коя от двойките планини преминава границата с Република Северна Македония? А) Славянка и Беласица Б) Верила и Огражден В) Огражден и Малешевска Г) Конявска и Осоговска</p>	<p>49. Коя двойка „езеро – произход“ е грешна? А) Смолянски - свлачищни Б) Рабишко - карстово В) Дуранкулак – лиманно Г) Поповото - циркусно</p>
<p>41. Какви по възраст са най-старите скали изграждащи фундамента на Мизийската плоча? А) докамбрийски и палеозойски Б) палеозойски и мезозойски В) палеозойски и незозойски Г) палеогенски и кватернерни</p>	<p>50. Кои зонални почви преобладават в Северна България? А) черноземи и алувиално-ливадни Б) черноземи и хумусно-карбонатни В) черноземи и сиви горски Г) черноземи и планинско-ливадни</p>
<p>42. Кои процеси са характерни за близо ¼ от територията на България? А) карстови Б) свлачищни В) глациални Г) абразионни</p>	<p>51. В кой височинен пояс има клек и хвойна? А) планинския Б) равнинния В) високопланинския Г) хълмистия</p>
<p>43. Коя двойка „находище – вид въглища“ е грешна? А) Елховски басейн – лигнитни Б) Пернишки басейн – кафяви В) Добруджански басейн – черни Г) Бобовдолски басейн – антрацитни</p>	<p>52. В кой резерват се намират най-големите популации на рилска иглика? А) „Юлен“ Б) „Парангалица“ В) „Тисата“ Г) „Мангарица“</p>
<p>44. При кои селища има находища на манганова руда? А) Кошава и Ветрен Б) Оброчище и Църква В) Мадан и Лъки Г) Ветово и Сеново</p>	<p>53. Средиземноморските фаунистични видове са характерни за: А) Южна Добруджа Б) Краище В) Задбалканските котловини Г) Черноморското крайбрежие</p>
<p>45. Кой воден басейн НЕ оказва влияние върху климата на България? А) Балтийско море Б) Черно море В) Средиземно море Г) Атлантически океан</p>	<p>54. На колко метра надморска височина се намира най-високата точка на Дунавска равнина? А) 250 m Б) 502 m В) 750 m Г) 150 m</p>
<p>46. Коя климатична област се характеризира със студена зима и най-много валежи през май и юни? А) черноморска Б) преходна В) умереноконтинентална Г) континентално-средиземноморска</p>	<p>55. Кое твърдение за климата на Дунавската равнина е грешно? А) Средногодишната валежна сума е под 500 mm Б) Температурните амплитуди са най-големите в страната В) Пролетно-летен максимум на валежите Г) Януарските температури са отрицателни</p>
<p>47. Коя двойка „главна река-приток“ е грешна? А) Искър – Перловска Б) Янтра – Росица В) Струма – Джерман Г) Тунджа – Тополница</p>	<p>56. Къде в Предбалкана има находище на природен газ? А) долината на р. Лом Б) при с. Деветаки В) при с. Гиген Г) Тетевенско</p>

<p>57. Коя група природни обекти се намира в Стара планина?</p> <p>А) Врачанска планина, вр. Триглав, пещера Леденика Б) Баташка планина, вр. Ореляк, пещера Съева дупка В) Драгоевска планина, Васильов връх, пещера Магура Г) Лозенска планина, Черни връх, пещера Проходна</p>	<p>68. Коя от изброените територии се характеризира с относително ниска раждаемост?</p> <p>А) Източна Стара планина Б) Лудогорието В) Краище Г) Поречието на река Места</p>
<p>58. Коя двойка „котловина – полезни изкопаеми“ в Краище е грешна?</p> <p>А) Пернишка котловина – кафяви въглища Б) Трънска котловина – злато В) Радомирска котловина – лигнитни въглища Г) Кюстендилска котловина – лигнитни въглища</p>	<p>69. На колко групи се разделя населението на България, според възрастовата му структура?</p> <p>А) 2 Б) 3 В) 4 Г) 5</p>
<p>59. В кой ред всички планини са част от Средна гора?</p> <p>А) Същинска, Сърнена, Милевска Б) Ихтиманска, Същинска, Голо Бърдо В) Ихтиманска, Същинска, Сърнена Г) Същинска, Ихтиманска, Етрополска</p>	<p>70. Кой от изброените градове е с население под 100 000 жители?</p> <p>А) Стара Загора Б) Велико Търново В) Русе Г) Бургас</p>
<p>60. Къде се намира карстовият извор „Живата вода“?</p> <p>А) Витоша Б) Плана В) Стрелчанска котловина Г) Самоковска котловина</p>	<p>71. По какъв критерий селищата се разделят на административни, транспортни, балнеоложки, промишлени, аграрни и др.?</p> <p>А) функциите, които изпълняват Б) периода на възникване В) външния облик Г) начина на застрояване</p>
<p>61. Кой географски обект е разположен между долините на р. Марица и р. Сазлийка?</p> <p>А) Сакар планина Б) Чирпанските възвишения В) Дервентските възвишения Г) Светицките възвишения</p>	<p>72. Какъв е броят на областите в България, според действащата нормативна уредба?</p> <p>А) 26 Б) 27 В) 28 Г) 265</p>
<p>62. Кои са най-разпространените почвени типове в Горнотракийската низина?</p> <p>А) алувиално-ливадни и жълтоземни Б) жълтоземни и канелени В) черноземни и смолници Г) смолници и канелени</p>	<p>73. Кой орган ръководи и осъществява вътрешната и външна политика на страната в съответствие с Конституцията и законите?</p> <p>А) Прокуратурата Б) Висшият съдебен съвет В) Народното събрание Г) Министерският съвет</p>
<p>63. Коя характеристика се отнася за Рила?</p> <p>А) блоково-разломна структура Б) карстов релеф В) средиземноморски климат Г) значителни запаси от грунтови води</p>	<p>74. Кой от факторите за развитие на стопанството НЕ спада към социално-икономическите?</p> <p>А) демографски потенциал Б) транспортна инфраструктура В) изкопаеми горива Г) научно-технически прогрес</p>
<p>64. Кои са най-високите котловини в Западните Родопи?</p> <p>А) Смолянска и Чепеларска Б) Смолянска и Хвойненска В) Баташка и Доспатска Г) Чепинска и Чепеларска</p>	<p>75. Къде е създадена първата фабрика преди Освобождението през 1878 г.?</p> <p>А) София Б) Русе В) Габрово Г) Сливен</p>
<p>65. Коя група ридове се намира в Източните Родопи?</p> <p>А) Иран тепе, Дъбраш, Добростан Б) Сърта, Стърмни рид, Мъгленик В) Жълти дял, Мурсалица, Чернатица Г) Гюмюрджински Снежник, Иран тепе, Алабак</p>	<p>76. Коя от изброените дейности НЕ се отнася за отраслите от първичния сектор?</p> <p>А) мелиорация Б) механизация В) флотация Г) химизация</p>
<p>66. Кой тип климат обхваща териториите на юг от Кресненския пролом?</p> <p>А) преходен Б) континентално-средиземноморски В) планински Г) умерено-континентален</p>	<p>77. Кой от изброените райони НЕ се свързва с добре развито зеленчукопроизводство?</p> <p>А) Централна Северна България Б) Рило-Родопският масив В) Пазарджишко-Пловдивското поле Г) Долното течение на р. Струма</p>
<p>67. Кои форми на релефа са характерни за Северното Черноморско крайбрежие?</p> <p>А) свлачища и срутища Б) дюни и бархани В) лимани и термокарстови езера Г) трогови долини и срутища</p>	<p>78. Кой от отраслите е с най-голям дял в общата произведена продукция на животновъдството?</p> <p>А) козевъдство Б) овцевъдство В) свиневъдство Г) говедовъдство</p>

<p>79. В коя от изброените двойки „вид електроцентрали – име“ е допусната грешка?</p> <p>А) ПАВЕЦ – „Чаира“ Б) ВЕЦ – „Петрохан“ В) ТЕЦ – „Цанков камък“ Г) АЕЦ – „Козлодуй“</p>	<p>88. Коя от земеделските дейности НЕ е характерна за Югозападния район?</p> <p>А) оризопроизводство Б) тютюнопроизводство В) лозарство Г) картофопроизводство</p>
<p>80. Коя от изброените характеристики за металургията е грешна?</p> <p>А) суровиноемък отрасъл Б) суровините за производствата в черната металургия са предимно вносни В) строителството на нови производствени мощности е съобразено с екологични правила и норми Г) основно производство на черната металургия е електролитната мед край Пирдоп</p>	<p>89. Трасето на кой транспортен коридор НЕ преминава през територията на Югозападния район?</p> <p>А) №4 Б) №8 В) №9 Г) №10</p>
<p>81. В коя двойка градове се произвеждат велосипеди?</p> <p>А) Монтана – Севлиево Б) Ловеч – Кърджали В) Ловеч – Монтана Г) Смолян – Силистра</p>	<p>90. Кой град от Южен централен район е носил имената Евмолпия, Пулпудева и Тримонциум?</p> <p>А) Асеновград Б) Хасково В) Пловдив Г) Пазарджик</p>
<p>82. Къде в България се произвеждат бои, лакове и лепила?</p> <p>А) Троян Б) Рудозем В) Сандански Г) Русе</p>	<p>91. В кое от посочените населени места туризмът има най-малко стопанско значение?</p> <p>А) Пещера Б) Велинград В) Хисаря Г) Девин</p>
<p>83. Леката промишленост в България:</p> <p>А) е структуроопределящ отрасъл на икономиката Б) участва само във вноса на страната В) има бавна възвръщаемост на инвестициите Г) привлича много чуждестранни инвестиции</p>	<p>92. Кое от изброените предприятия НЯМА структуроопределящо значение за икономиката на Югоизточния район?</p> <p>А) Едуардо Мирوليو ЕАД, Сливен Б) КЦМ АД, Пловдив В) Лукойл Нефтохим АД, Бургас Г) Загорка АД, Стара Загора</p>
<p>84. Кой град е център на растително-маслената промишленост?</p> <p>А) Добрич Б) Бургас В) Долна Митрополия Г) Хасково</p>	<p>93. Югоизточният район е специализиран в производството на:</p> <p>А) Гроздови вина и течни горива Б) Фармацевтични изделия и азотни торове В) Калицинирана сода и торове Г) Ориз и етерични масла</p>
<p>85. В коя двойка „забележителност – селище“ има несъответствие?</p> <p>А) пещера „Леденика“ – с. Рабиша Б) Аладжа манастир – Варна В) къща-музей на Васил Левски – Карлово Г) къща-музей на Никола Вапцаров – Банско</p>	<p>94. Кой от посочените проходи НЕ свързва Североизточния район с Югоизточния?</p> <p>А) Витиня Б) Ришки В) Котленски Г) Дюлински</p>
<p>86. Как се нарича най-дългият жп тунел в България?</p> <p>А) „Гълъбец“ Б) „Козница“ В) „Ечемишка“ Г) „Траянови врата“</p>	<p>95. В коя двойка „производство – град“ е допусната грешка?</p> <p>А) текстилни изделия – Трявна Б) стъкло – Разград В) бои, лакове и лепила – Русе Г) санитарна арматура и фаянс – Свищов</p>
<p>87. Кой от посочените резервати НЕ е разположен на територията на Югозападния район?</p> <p>А) „Силкосия“ Б) „Парангалица“ В) „Тисата“ Г) „Баюви дупки – Джинджирица“</p>	<p>96. Коя особеност НЕ се отнася за населението в Северозападния район?</p> <p>А) висок коефициент на раждаемост Б) висок коефициент на смъртност В) силно застаряло население Г) трайни процеси на обезлюдяване</p>

97. Какво е показано на изображението?

- А) легенда
- Б) градусна мрежа
- В) условни знаци
- Г) релеф

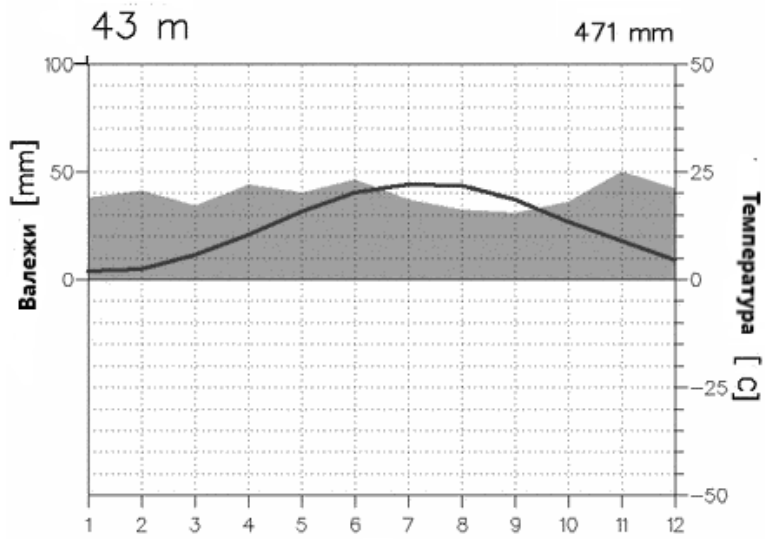


98. На снимката е изобразена европейска столица, разположена на река Вълтава. Коя е тя?



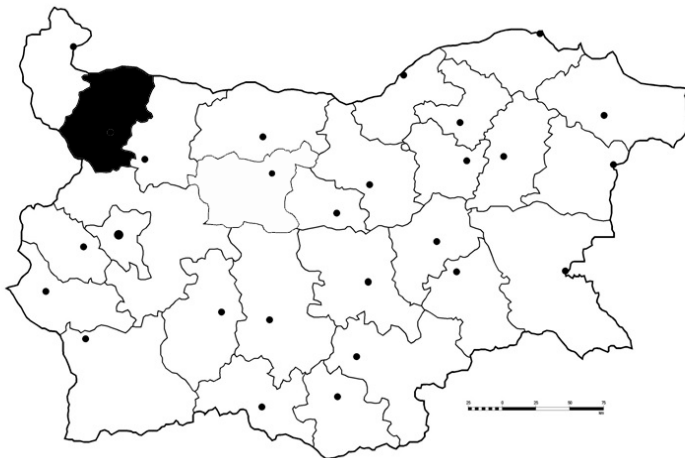
- А) Прага
- Б) Будапеща
- В) Берн
- Г) Стокхолм

99. От коя климатична станция е климатограмата?



- А) Видин
- Б) Пловдив
- В) Варна
- Г) Ямбол

100. Коя е заштрихованата на картосхемата административна област?



- А) Видин
- Б) Враца
- В) Плевен
- Г) Монтана

Бланка
с отговорите на тест География, вариант № 3

Въпрос №	Отговори			
1				Г
2				Г
3	А			
4		Б		
5				Г
6		Б		
7			В	
8	А			
9		Б		
10			В	
11	А			
12		Б		
13			В	
14	А			
15		Б		
16				Г
17				Г
18				Г
19		Б		
20	А			
21		Б		
22	А			
23		Б		
24		Б		
25		Б		
26				Г
27	А			
28	А			
29				Г
30		Б		
31	А			
32	А			
33				Г
34				Г
35		Б		
36		Б		
37				Г
38				Г
39			В	
40			В	
41	А			
42	А			
43				Г
44		Б		
45	А			
46			В	
47				Г
48		Б		
49		Б		
50			В	

Въпрос №	Отговори			
51			В	
52		Б		
53				Г
54		Б		
55	А			
56		Б		
57	А			
58			В	
59			В	
60	А			
61		Б		
62				Г
63	А			
64			В	
65		Б		
66		Б		
67	А			
68			В	
69		Б		
70		Б		
71	А			
72			В	
73				Г
74			В	
75				Г
76			В	
77		Б		
78				Г
79			В	
80				Г
81			В	
82				Г
83				Г
84	А			
85	А			
86		Б		
87	А			
88	А			
89			В	
90			В	
91	А			
92		Б		
93	А			
94	А			
95				Г
96	А			
97		Б		
98	А			
99			В	
100				Г